

1

5

Tot 10 tellen

6

10



7

8

9

0

1

een

2

twee

3

drie

4

vier

5

vijf

6

zes

7

zeven

8

acht

9

negen

10

tien

0

nul

1

2

3

4

5

een

Tot 10 tellen –  
oefenen

vijf

6

10

zes

zeven

acht

negen


tien

0

nul






Hoeveel bloemen zijn dit?

Dit zijn vijf bloemen.








Hoeveel bloemen zijn rood?

Drie bloemen zijn rood.




En hoeveel zijn blauw?

Twee bloemen zijn blauw.




Hoeveel bloemen zijn dit?

Dit zijn negen bloemen.




Hoeveel bloemen zijn geel?

Vier bloemen zijn geel.




En paars?

Vijf bloemen zijn paars.




Hoeveel bloemen zijn dit?

Dit zijn tien bloemen.




Welke kleur zijn acht bloemen?

Acht bloemen zijn oranje.




Welke kleur zijn de andere bloemen?

De andere bloemen zijn groen.









Hoeveel bloemen zijn dit?

Dit zijn zeven bloemen.




Welke bloemen hebben acht bladen?

De gele bloemen hebben acht bladen.




Hoeveel bloemen hebben vijf bladen?

Vijf bloemen hebben vijf bladen.




Hoeveel bladen hebben de rode bloemen samen?

De rode bloemen hebben samen tien bladen.




Hoeveel bloemen zijn dit?

Dit is één bloem.




Hoeveel bloemen zijn rood?

Nul bloemen zijn rood.



Hoeveel bloemen hebben acht bladen?

Alle bloemen hebben acht bladen.



11

12

13

14

15

Tot 20 tellen

16

17

18

19

20

11

12

13

14

15

elf

twaalf

dertien

veer-  
tien

vijf-  
tien

16

17

18

19

20

zes-  
tien

zeven-  
tien

acht-  
tien

negen-  
tien

twintig

11

12

13

14

15

elf

Tot 20 tellen –  
oefenen

vijf-  
tien

16

17

18

19

20

zes-  
tien

zeven-  
tien

acht-  
tien


negen-  
tien

twintig

Dit is een bos bloemen.

Hoeveel bloemen zijn er in deze bos?


In deze bos zijn vijf bloemen.



Hoeveel bossen zijn dit? Hoeveel bloemen zijn dit?

Dit zijn drie bossen.

Dit zijn vijftien bloemen.




Hoeveel bloemen zijn dit?

Dit zijn twaalf bloemen.

$$2 \times 5 + 2 = 12$$

2 keer 5 plus 2 is 12




Hoeveel bloemen zijn dit?

Dit zijn achttien bloemen.

$$3 \times 5 + 3 = 18$$

3 keer 5 plus 3 is 18



10

20

30

40

50

Tot 100 tellen

60

70

80

90

100

10

20

30

40

50

tien

twintig

dertig

veer-  
tig

vijftig

60

70

80

90

100

zestig

zeven-  
tig

tachtig

negen-  
tig

honderd

10

20

30

40

50

tien

twintig

dertig

veer-  
tig

vijftig

60

70

80

90

100

zestig

zeven-  
tig

tachtig

negen-  
tig

honderd

21

een-en-  
twintig

32

twee-en-  
dertig

45

vijf-en-  
veertig

58

acht-en-  
vijftig

63

drie-en-  
zestig

79


negen-en-  
zeventig

86

zes-en-  
tachtig

94

vier-en-  
negentig

A painting depicting a hand holding a coin over a scale, with an open book in the foreground. The scene is set against a dark background, with a green garment visible in the upper left. The lighting is dramatic, highlighting the textures of the book and the hand.

# Tot 100 tellen – dictee



De plus vijf-en-zestig is acht-en-zestig

$$3 + 65 = 68$$



Drie plus zes-en-zeventig is tachtig

Drie plus vijf-en-zeventig is tachtig

$$3 + 76 = 80$$



entien plus een-en-dertig is acht-en-veertig

Vier plus zes- **17 + 31 = 48**

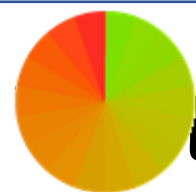
Drie plus vijf-en-zestig is acht-en-zestig

 tien plus een-en-zestig is vier-en-zeventig

Zeventien plus  **$13 + 61 = 74$**  en-veertig

Vier plus zes-en-zeventig is tachtig

Drie plus vijf-en-zestig is acht-en-zestig



tien plus drie-en-twintig is acht-en-dertig

Dertien plus  $15 + 23 = 38$  zeventig

Zeventien plus een-en-dertig is acht-en-veertig

Vier plus zes-en-zeventig is tachtig

Drie plus vijf-en-zestig is acht-en-zestig

Vijftien plus drie-en-twintig is acht-en-dertig  $15 + 23 = 38$

Dertien plus een-en-zestig is vier-en-zeventig  $13 + 61 = 74$

Zeventien plus een-en-dertig is acht-en-veertig  $17 + 31 = 48$

Vier plus zes-en-zeventig is tachtig  $4 + 76 = 80$

Drie plus vijf-en-zestig is acht-en-zestig  $3 + 65 = 68$

121 honderd een-en-twintig

143 honderd drie-en-veertig

176 honderd zes-en-zeventig

195 honderd vijf-en-negentig

**221** twee-honderd een-en-twintig

**243** twee-honderd drie-en-veertig

**276** twee-honderd zes-en-zeventig

**295** twee-honderd vijf-en-negentig

**321** drie-honderd een-en-twintig

**443** vier-honderd drie-en-veertig

**676** zes-honderd zes-en-zeventig

**895** acht-honderd vijf-en-negentig

**1.000** duizend

**10.000** tien-duizend

**100.000** honderd-duizend

**1.000.000** miljoen

**1.000.000.000** miljard

0,1

een-tiende  
nul komma een

0,4

vier-tiende  
nul komma vier

0,06

zes-honderdste  
nul komma nul 6

0,08

acht-honderdste  
nul komma nul acht

$\frac{1}{2}$  een half

$\frac{1}{3}$  een derde

$\frac{1}{4}$  een kwart

$\frac{3}{4}$  drie-kwart

Dit is geld, dit zijn de Euro-munten.



€0,01  
1 cent



€0,02  
2 cent



€0,05  
5 cent



€0,10  
10 cent



€0,20  
20 cent



€0,50  
50 cent



€1,00  
1 Euro



€2,00  
2 Euro



Hoeveel geld is dit?

$$3 \times \text{€}0,01 = \text{€}0,03$$

drie keer één is drie cent

$$4 \times \text{€}0,02 = \text{€}0,08$$

$$2 \times \text{€}0,05 = \text{€}0,10$$

$$\text{€}0,03 + \text{€}0,08 + \text{€}0,10 = \text{€}0,21$$

drie plus acht plus tien is  
een-en-twintig cent



Hoeveel geld is dit?

$$1 \times \text{€}0,10 + 2 \times \text{€}0,20 + 1 \times \text{€}0,50 = 100 = \text{€}1,00$$

$$1 \times \text{€}1,00 + 2 \times \text{€}2,00 = \text{€}5,00$$

$$\text{€}1,00 + \text{€}5,00 = \text{€}6,00$$



Hoeveel geld is dit?

$$\text{€}0,05 + \text{€}0,10 + 3 \times \text{€}0,20 = \text{€}0,75 \text{ (vijf-en-zeventig cent)}$$

$$\text{€}1,00 + 3 \times \text{€}2,00 = \text{€}7,00$$

$$\text{€}0,75 + \text{€}7,00 = \text{€}7,75$$

zeven Euro vijf-en-zeventig



Dit is vijf Euro.

Dit is tien Euro.

Hoeveel is dit samen?

Dit is samen vijftien Euro.



Dit is vijftien Euro.

Dit is twintig Euro.

Dit is vijftig Euro.

Hoeveel is alles samen?

Samen is dit vijf-en-tachtig Euro.



Dit is vijf-en-tachtig Euro.

Dit is honderd Euro.

Dit is tweehonderd Euro.

Dit is vijfhonderd Euro.

Hoeveel is alles samen?

Samen is dit € 885.

Achthonderd-vijf-en-tachtig Euro

Hoeveel is dit samen?

drie-en-dertig



1
2
10
20
33

Hoeveel is dit samen?

een-en-veertig



$3 \times 2 = 6$
5
10
20
<b>41</b>

Hoeveel is dit samen?

vier-en-zestig



$1+1=2$
2
10
50
<b>64</b>

Hoeveel is dit samen?

zeven-en-zeventig



2
5
20
50
77

Hoeveel is dit samen?


honderd-dertien



	1
	2
$5 + 5 = 10$	
	100
	<b>113</b>

Hoeveel is dit samen?

honderd-een-en-veertig



1
$10+10 = 20$
20
100
<b>141</b>

Hoeveel is dit samen? twee-honderd-zeven-en-twintig



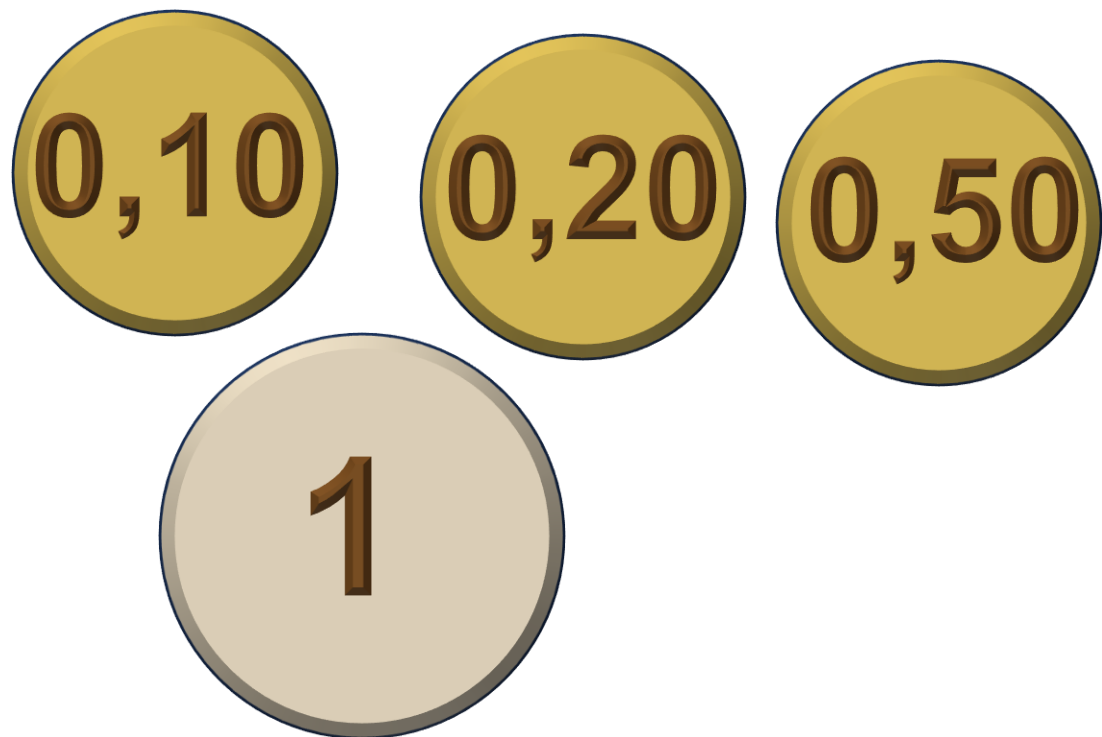
2
5
20
$2 \times 100 = 200$
227

Hoeveel is dit samen? drie-honderd-drie-en-vijftig



$1 + 2 = 3$
50
100
200
<b>353</b>

Hoeveel is dit samen? één-komma-tachtig



0,10

0,20

0,50

1,00

**1,80**

Hoeveel is dit samen? twee-komma-zes-en-vijftig



0,01

0,05

0,50

2,00

2,56

Hoeveel is dit samen?



nul-komma-twee-en-tachtig


$$2 \times 0,01 = 0,02$$

0,10

0,20

0,50

**0,82**



Tellen – dictee

1,01

2,73

0,31

1,62

716

385

43

329

72

111